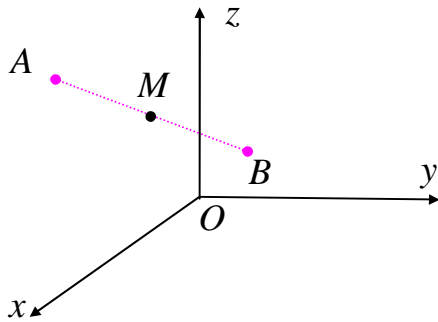


## فاصله‌ی دو نقطه در فضا

فاصله‌ی دو نقطه‌ی  $A(a_1, b_1, c_1)$  و  $B(a_2, b_2, c_2)$  در فضا از رابطه‌ی زیر بدست می‌آید.

$$AB = \sqrt{(a_2 - a_1)^2 + (b_2 - b_1)^2 + (c_2 - c_1)^2}$$



**حالت خاص:** فاصله‌ی هر نقطه مانند  $A(a, b, c)$  از

مبدأ مختصات به صورت زیر است.

$$OA = \sqrt{a^2 + b^2 + c^2}$$

\*\*\*

## مختصات نقطه‌ی وسط پاره خط

مختصات نقطه‌ی  $M$  وسط پاره خط  $AB$  در فضا از رابطه‌ی زیر بدست می‌آید.

$$x_M = \frac{a_1 + a_2}{2} \quad \text{و} \quad y_M = \frac{b_1 + b_2}{2} \quad \text{و} \quad z_M = \frac{c_1 + c_2}{2}$$

\*\*\*

**تمرین ۱:** اگر  $A(1, 0, 2)$  و  $B(3, 1, -1)$  دو نقطه در فضای  $R^3$  باشند.

**الف:** مختصات نقطه‌ی  $M$  وسط پاره خط  $AB$  را بدست آورید.

**ب:** طول پاره خط  $AB$  را تعیین کنید.

**حل:**

$$x_M = \frac{a_1 + a_2}{2} = \frac{1 + 3}{2} = 2$$

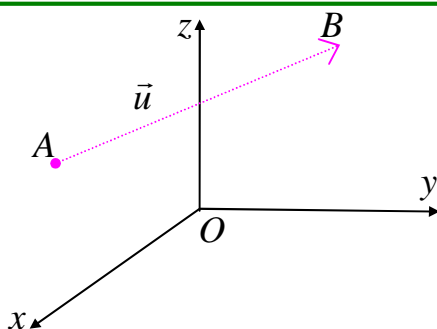
$$y_M = \frac{b_1 + b_2}{2} = \frac{0 + 1}{2} = \frac{1}{2}$$

$$z_M = \frac{c_1 + c_2}{2} = \frac{2 + (-1)}{2} = \frac{1}{2}$$

$$\Rightarrow M\left(2, \frac{1}{2}, \frac{1}{2}\right)$$

\*\*\*

### بردارها در فضای $R^3$



هر پاره خط جهت دار که ابتدای آن نقطه‌ی  $A$  و انتهای آن

نقطه‌ی  $B$  باشد، را یک پیکان می‌نامند و آن را با  $\vec{AB}$  یا  $\vec{u}$  نمایش می‌دهند.

اگر در پیکان  $\vec{AB}$  نقاط  $A$  و  $B$  بر هم منطبق باشند، آن

پیکان را پیکان صفر می‌نامند و آن را با نماد  $\vec{O}$  نمایش می‌دهند.

هر پیکان دارای مختصات به صورت زیر است.

$$\vec{AB} = (a_2 - a_1, b_2 - b_1, c_2 - c_1)$$

طول پاره خط  $AB$  متناظر با پیکان  $\vec{AB}$  را اندازه یا طول پیکان  $\vec{AB}$  می‌نامند و آن به صورت  $\|\vec{AB}\|$  نمایش می‌دهند. واضح است که:

$$\|\vec{AB}\| = \sqrt{(a_2 - a_1)^2 + (b_2 - b_1)^2 + (c_2 - c_1)^2}$$

### نتیجه:

۱: مختصات هر بردار با مختصات نقطه‌ی انتهایی آن برابر است.

۲: اندازه‌ی بردار مکان نقطه‌ی  $A(a, b, c)$  به صورت زیر است.

$$\|\vec{u}\| = \sqrt{a^2 + b^2 + c^2}$$

**۳:** برای هر بردار  $\vec{u} = (a, b, c)$  همواره داریم:

$$\|\vec{u}\|^2 = a^2 + b^2 + c^2$$

**۴:** هر بردار که انتهای آن مبدأ مختصات باشد را **برداری صفر** می نامند. لذا مختصات این بردار  $\vec{O} = (0, 0, 0)$  می باشد. توجه داشته باشید که اندازه‌ی بردار صفر برابر صفر است.

\*\*\*

**تمرین ۲:** بردار  $\vec{u} = (1, 2, -2)$  داده شده است.

الف: مختصات انتهایی بردار  $\vec{u}$  را بدست آورید.

ب: اندازه‌ی بردار  $\vec{u}$  را محاسبه کنید.

**حل:**

**الف)**  $P(1, 2, -2)$

**ب)**  $\|\vec{u}\| = \sqrt{a^2 + b^2 + c^2} = \sqrt{(1)^2 + (2)^2 + (-2)^2} = \sqrt{1 + 4 + 4} = \sqrt{9} = 3$

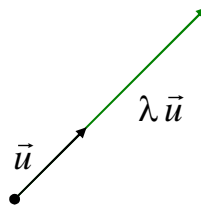
\*\*\*

\*\*\*

### ضرب عدد در بردار

اگر  $\vec{u} = (a, b, c)$  یک بردار و  $\lambda$  یک عدد حقیقی باشد. در این صورت  $\lambda \vec{u}$  برداری است که از ضرب عدد  $\lambda$  در تمام مولفه های  $\vec{u}$  بدست می آید.

$$\lambda \vec{u} = \lambda (a, b, c) = (\lambda a, \lambda b, \lambda c)$$



توجه داشته باشید که :

۱: اگر  $\lambda = 0$  باشد،  $\lambda \vec{u} = \vec{0}$

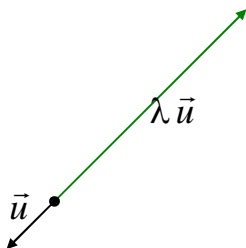
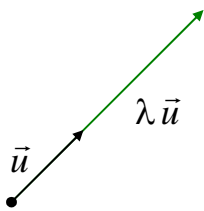
۲: اگر  $\lambda > 0$  باشد، بردار های  $\vec{u}$  و  $\lambda \vec{u}$  هم جهت هستند.

۳: اگر  $\lambda < 0$  باشد، بردار های  $\vec{u}$  و  $\lambda \vec{u}$  در جهت مخالف همدیگر هستند.

۴: اگر  $\lambda = 1$  باشد،  $\lambda \vec{u} = \vec{u}$

۵: اگر  $\lambda = -1$  باشد،  $\lambda \vec{u} = -\vec{u}$

۶: در هر صورت  $\|\lambda \vec{u}\| = |\lambda| \|\vec{u}\|$



## نتیجه :

۱: حاصل ضرب عدد  $-1$  در بردار غیر صفر  $\vec{u}$  یعنی  $(-1)\vec{u}$  را قرینه‌ی بردار  $\vec{u}$  می نامند و آن را با  $-\vec{u}$  نمایش می دهند.

۲: دو بردار غیر صفر  $\vec{u}$  و  $\vec{v}$  موازیند، هرگاه وجود داشته باشد عدد حقیقی غیر صفر  $\lambda$  بطوری که  $\vec{u} = \lambda \vec{v}$

\*\*\*

**تمرین ۱:** نشان دهید که دو بردار  $\vec{u} = (6, 3, -9)$  و  $\vec{v} = (2, 1, -3)$  موازی یکدیگرند.

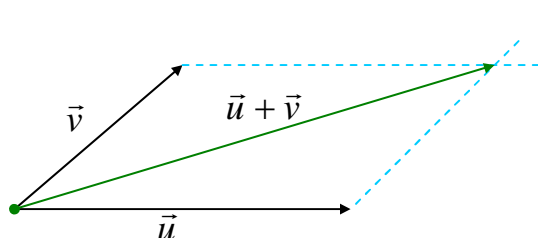
**حل:** کافی است که نشان دهیم یک عدد حقیقی پیدا می شود که با ضرب آن در یکی از بردارها، بردار دیگر

حاصل می شود. با قدری دقت در اینجا، واضح است که  $\vec{u} = 3\vec{v}$  و لذا  $\vec{u} \parallel \vec{v}$

\*\*\*

## جمع دو بردار

اگر  $\vec{u}$  و  $\vec{v}$  دو بردار باشند، بردار حاصل جمع این دو بردار به صورت زیر تعریف می شود.



$$\vec{u} = (a_1, b_1, c_1)$$

$$\vec{v} = (a_2, b_2, c_2)$$

$$\vec{u} + \vec{v} = (a_1 + a_2, b_1 + b_2, c_1 + c_2)$$

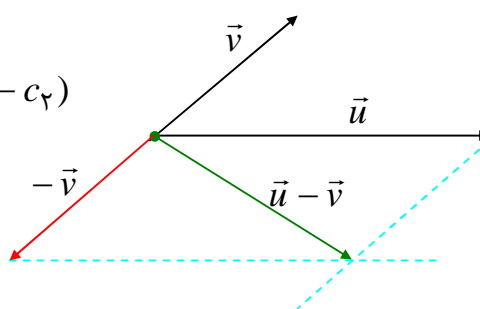
## تفریق دو بردار

اگر  $\vec{u}$  و  $\vec{v}$  دو بردار باشند، بردار حاصل تفریق این دو بردار به صورت زیر تعریف می شود.

$$\vec{u} = (a_1, b_1, c_1)$$

$$\vec{v} = (a_2, b_2, c_2)$$

$$\vec{u} - \vec{v} = \vec{u} + (-\vec{v}) = (a_1 - a_2, b_1 - b_2, c_1 - c_2)$$



**تمرین ۲:** اگر  $\vec{u} = (5, 3, 0)$  و  $\vec{v} = (-1, 2, 3)$  مطلوبست محاسبه‌ی

الف)  $-2\vec{u}$                       ب)  $\vec{u} + \vec{v}$                       ج)  $\vec{u} - \vec{v}$

**حل:**

الف)  $-2\vec{u} = -2(5, 3, 0) = (-10, -6, 0)$

ب)  $\vec{u} + \vec{v} = (5, 3, 0) + (-1, 2, 3) = (4, 5, 3)$

ج)  $\vec{u} - \vec{v} = \vec{u} + (-\vec{v}) = (5, 3, 0) + (1, -2, -3) = (6, 1, -3)$

\*\*\*

### بردار واحد

هر بردار که اندازه‌ی آن یک واحد طول باشد، را بردار واحد (یکه) می‌نامند.



$$\|\vec{u}\| = 1$$

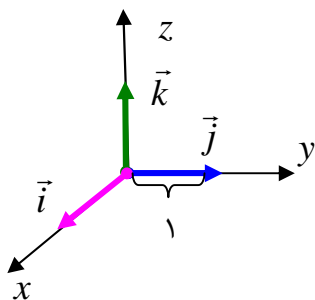
**تمرین ۳:** نشان دهید که بردار  $\vec{u} = (\frac{1}{4}, \frac{\sqrt{11}}{4}, -\frac{1}{2})$  بردار واحد است.

**حل:**

$$\|\vec{u}\| = \sqrt{\left(\frac{1}{4}\right)^2 + \left(\frac{\sqrt{11}}{4}\right)^2 + \left(-\frac{1}{2}\right)^2} = \sqrt{\frac{1}{16} + \frac{11}{16} + \frac{1}{4}} = \sqrt{\frac{1}{16} + \frac{11}{16} + \frac{4}{16}} = 1$$

\*\*\*

### بردارهای واحد مختصات



در فضای سه بعدی  $R^3$  بردارهای واحد  $\vec{i} = (1, 0, 0)$  و  $\vec{j} = (0, 1, 0)$  و

$\vec{k} = (0, 0, 1)$  که به ترتیب در جهت مثبت محور طول ها، عرض ها و

ارتفاع ها قرار دارند را بردارهای **یکه‌ی استاندارد** یا بردارهای واحد

**مختصات** می‌نامند.

هر بردار را می‌توان بر حسب بردارهای واحد مختصات نوشت:

$$\begin{aligned}
 \vec{u} &= (a, b, c) \\
 &= (a, \cdot, \cdot) + (\cdot, b, \cdot) + (\cdot, \cdot, c) \\
 &= a(\cdot, \cdot, \cdot) + b(\cdot, \cdot, \cdot) + c(\cdot, \cdot, \cdot) \\
 &= a\vec{i} + b\vec{j} + c\vec{k}
 \end{aligned}$$

تمرین ۴: اگر  $\vec{u} = 2\vec{i} - \vec{j} + 3\vec{k}$

الف: مختصات بردار  $\vec{u}$  را بنویسید.

حل:

ب: اندازه ی بردار  $\vec{u}$  را محاسبه کنید.

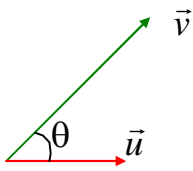
الف)  $\vec{u} = (2, -1, 3)$

ب)  $\|\vec{u}\| = \sqrt{(2)^2 + (-1)^2 + (3)^2} = \sqrt{4 + 1 + 9} = \sqrt{14}$

\*\*\*

\*\*\*

### ضرب داخلی دو بردار



**تعریف هندسی ضرب داخلی:** اگر  $\vec{u}$  و  $\vec{v}$  دو بردار غیر صفر باشند و  $\theta$  کوچکترین زاویه ی بین آنها در نظر گرفته شود. در این صورت ضرب داخلی (ضرب نقطه ای) دو بردار را با  $\vec{u} \cdot \vec{v}$  نشان داده و به شکل زیر تعریف می کنند.

$$\vec{u} \cdot \vec{v} = \|\vec{u}\| \|\vec{v}\| \cos\theta$$

\*\*\*

**تمرین ۱:** اگر  $\|\vec{v}\| = \sqrt{3}$  و  $\|\vec{u}\| = \sqrt{12}$  و زاویه ی بین دو بردار  $\vec{u}$  و  $\vec{v}$  برابر  $30^\circ$  درجه باشد. حاصل ضرب داخلی این دو بردار را بدست آورید.

**حل:**

$$\vec{u} \cdot \vec{v} = \|\vec{u}\| \|\vec{v}\| \cos\theta = \sqrt{12} \times \sqrt{3} \times \cos 30^\circ = 2\sqrt{3} \times \sqrt{3} \times \frac{\sqrt{3}}{2} = 3\sqrt{3}$$

\*\*\*

**تعریف تحلیلی ضرب داخلی:** اگر  $\vec{u} = (a_1, b_1, c_1)$  و  $\vec{v} = (a_2, b_2, c_2)$  دو بردار در فضای سه بعدی باشند، آنگاه ضرب داخلی آنها به صورت زیر تعریف می شود.

$$\vec{u} \cdot \vec{v} = a_1 a_2 + b_1 b_2 + c_1 c_2$$



**تمرین ۲:** اگر  $\vec{u} = (0, 2, 1)$  و  $\vec{v} = (-1, 1, 3)$  آنگاه مطلوبست تعیین:

الف)  $\vec{u} \cdot \vec{v} =$

ب)  $(\vec{u} + \vec{v}) \cdot (\vec{u} - \vec{v}) =$

حل:

الف)  $\vec{u} \cdot \vec{v} = (0)(-1) + (2)(1) + (1)(3) = 0 + 2 + 3 = 5$

ب)  $\vec{u} + \vec{v} = (-1, 3, 4)$  و  $\vec{u} - \vec{v} = (1, 1, -2)$

$(\vec{u} + \vec{v}) \cdot (\vec{u} - \vec{v}) = (-1)(1) + (3)(1) + (4)(-2) = -1 + 3 - 8 = -6$

**نتیجه:** حاصل ضرب داخلی دو بردار همیشه یک عدد حقیقی است.

\*\*\*

**تمرین ۳:** اگر دو بردار  $\vec{u}$  و  $\vec{v}$  موازی باشند و  $\vec{u} = (1, -2, 2)$  و  $\vec{u} \cdot \vec{v} = 15$  مختصات بردار  $\vec{v}$  را تعیین کنید.

حل:

$\vec{u} \parallel \vec{v} \xrightarrow{\exists r \in \mathbb{R}} \vec{v} = r\vec{u} \rightarrow \vec{v} = r(1, -2, 2) = (r, -2r, 2r)$

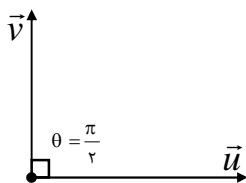
$\vec{u} \cdot \vec{v} = 15 \rightarrow (1)(r) + (-2)(-2r) + (2)(2r) = 15 \rightarrow r + 4r + 4r = 15 \rightarrow r = \frac{15}{9} = \frac{5}{3}$

$\therefore \vec{v} = (r, -2r, 2r) = (\frac{5}{3}, \frac{-10}{3}, \frac{10}{3})$

\*\*\*

**نتیجه:** دو بردار بر هم عمودند، هرگاه ضرب داخلی آنها صفر باشد و برعکس

یعنی:



برای هر دو بردار غیر صفر  $\vec{u}$  و  $\vec{v}$  بردار  $\vec{u}$  بر  $\vec{v}$  عمود است، اگر و فقط

اگر  $\vec{u} \cdot \vec{v} = 0$  و برعکس

$\vec{u} \perp \vec{v} \leftrightarrow \vec{u} \cdot \vec{v} = 0$

\*\*\*

**تمرین ۴:** نشان دهید که دو بردار  $\vec{u} = (-4, 5, 7)$  و  $\vec{v} = (1, -2, 2)$  بر هم عمودند.

**حل:**

$$\vec{u} \cdot \vec{v} = (-4)(1) + (5)(-2) + (7)(2) = -4 - 10 + 14 = 0 \rightarrow \vec{u} \perp \vec{v}$$

\*\*\*

**تمرین ۵:** اگر  $A(4, 9, 1)$  و  $B(6, 3, -2)$  و  $C(-2, 6, 3)$  سه رأس مثلث  $ABC$  باشند، نشان دهید که این

مثلث قائم الزاویه است.

**حل:** می دانیم متناظر با هر پیکان یک بردار مساوی آن وجود دارد. حال نشان می دهیم که بردار های متناظر با

دو ضلع از مثلث فوق بر هم عمودند. قرار می دهیم:

$$\vec{u} = \overrightarrow{AB} = (x_B - x_A, y_B - y_A, z_B - z_A) = (6 - 4, 3 - 9, -2 - 1) = (2, -6, -3)$$

$$\vec{v} = \overrightarrow{AC} = (x_C - x_A, y_C - y_A, z_C - z_A) = (-2 - 4, 6 - 9, 3 - 1) = (-6, -3, 2)$$

$$\vec{u} \cdot \vec{v} = (2)(-6) + (-6)(-3) + (-3)(2) = -12 + 18 - 6 = 0 \rightarrow \vec{u} \perp \vec{v}$$

\*\*\*

### تعیین زاویه بین دو بردار

اگر  $\vec{u}$  و  $\vec{v}$  دو بردار غیر صفر و  $\theta$  زاویه بین آنها باشد. در این صورت:

$$\cos \theta = \frac{\vec{u} \cdot \vec{v}}{\|\vec{u}\| \|\vec{v}\|} \quad 0 \leq \theta \leq \pi$$

**توجه:** زاویه بین دو بردار ناصفر  $\vec{u}$  و  $\vec{v}$  کوچکترین زاویه ای است که این دو بردار با هم تشکیل می دهند.

**تمرین ۶:** زاویه بین دو بردار  $\vec{u} = (2, -1, 1)$  و  $\vec{v} = (1, 1, 2)$  را بیابید.

**حل:**

$$\vec{u} \cdot \vec{v} = (2)(1) + (-1)(1) + (1)(2) = 3$$

$$\|\vec{u}\| = \sqrt{(2)^2 + (-1)^2 + (1)^2} = \sqrt{4+1+1} = \sqrt{6}$$

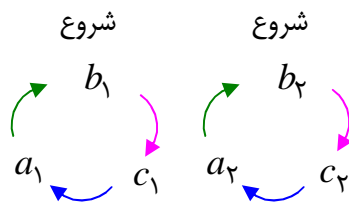
$$\|\vec{v}\| = \sqrt{(1)^2 + (1)^2 + (2)^2} = \sqrt{1+1+4} = \sqrt{6}$$

$$\cos\theta = \frac{\vec{u} \cdot \vec{v}}{\|\vec{u}\| \|\vec{v}\|} = \frac{3}{\sqrt{6} \times \sqrt{6}} = \frac{3}{6} = \frac{1}{2} \rightarrow \angle\theta = \frac{\pi}{3}$$

\*\*\*

## ضرب خارجی دو بردار

فرض کنیم که  $\vec{u} = (a_1, b_1, c_1)$  و  $\vec{v} = (a_2, b_2, c_2)$  دو بردار باشند. ضرب خارجی (ضرب برداری)  $\vec{u}$  در  $\vec{v}$  را که با نماد  $\vec{u} \times \vec{v}$  نمایش داده می شود، به صورت زیر تعریف می کنیم.



مؤلفه های بردار اول بالا و مؤلفه های بردار دوم پایین قرار می گیرند.

$$\vec{u} \times \vec{v} = \left( \begin{vmatrix} b_1 & c_1 \\ b_2 & c_2 \end{vmatrix}, \begin{vmatrix} c_1 & a_1 \\ c_2 & a_2 \end{vmatrix}, \begin{vmatrix} a_1 & b_1 \\ a_2 & b_2 \end{vmatrix} \right) = (b_1c_2 - b_2c_1, a_2c_1 - a_1c_2, a_1b_2 - a_2b_1)$$

\*\*\*

**تمرین ۷:** اگر  $\vec{u} = (2, -1, 3)$  و  $\vec{v} = (-1, -2, 4)$  در این صورت بردارهای زیر را محاسبه کنید.

الف)  $\vec{u} \times \vec{v} =$

ب)  $\vec{v} \times \vec{u} =$

ج)  $\vec{u} \times \vec{u} =$

حل:

الف:

$$\vec{u} \times \vec{v} = \left( \begin{vmatrix} -1 & 3 \\ -2 & 4 \end{vmatrix}, \begin{vmatrix} 3 & 2 \\ 4 & -1 \end{vmatrix}, \begin{vmatrix} 2 & -1 \\ -1 & -2 \end{vmatrix} \right) = (2, -11, -5)$$

ب :

$$\vec{v} \times \vec{u} = \begin{pmatrix} -2 & 4 & 4 \\ -1 & 3 & 3 \end{pmatrix} \begin{pmatrix} 4 & -1 \\ 3 & 2 \end{pmatrix} \begin{pmatrix} -1 & -2 \\ 2 & -1 \end{pmatrix} = (-2, 11, 5)$$

ج :

$$\vec{u} \times \vec{u} = \begin{pmatrix} -1 & 3 & 3 \\ -1 & 3 & 3 \end{pmatrix} \begin{pmatrix} 3 & 2 \\ 2 & -1 \end{pmatrix} \begin{pmatrix} 2 & -1 \\ 2 & -1 \end{pmatrix} = (0, 0, 0) = \vec{0}$$

### نتیجه:

۱ : ضرب خارجی دو بردار همواره یک بردار است. ۲ : ضرب خارجی دو بردار خاصیت جابجایی ندارد.

\*\*\*

**تمرین ۸:** اگر  $\vec{u} = (1, -1, 0)$  و  $\vec{v} = (2, 1, -1)$ . مطلوبست تعیین بردار  $(\vec{u} - \vec{v}) \times (\vec{u} + \vec{v})$

حل :

$$\vec{u} - \vec{v} = (1, -1, 0) - (2, 1, -1) = (-1, -2, 1)$$

$$\vec{u} + \vec{v} = (1, -1, 0) + (2, 1, -1) = (3, 0, -1)$$

$$(\vec{u} - \vec{v}) \times (\vec{u} + \vec{v}) = \begin{pmatrix} -2 & 1 & 1 \\ 0 & -1 & 3 \end{pmatrix} \begin{pmatrix} 1 & -1 \\ -1 & 3 \end{pmatrix} \begin{pmatrix} -1 & -2 \\ 3 & 0 \end{pmatrix} = (2, 2, 6)$$

\*\*\*

**تمرین ۹:** اگر  $\vec{u} = 2\vec{i} + \vec{j} + \vec{k}$  و  $\vec{v} = \vec{i} - \vec{j} + 2\vec{k}$  اندازه‌ی بردار  $\vec{u} \times \vec{v}$  را بدست آورید.

حل :

$$\vec{u} = (2, 1, 1)$$

$$\vec{v} = (1, -1, 2)$$

$$\vec{u} \times \vec{v} = \begin{pmatrix} 1 & 1 & 1 \\ -1 & 2 & 2 \end{pmatrix} \begin{pmatrix} 1 & 2 \\ 2 & 1 \end{pmatrix} \begin{pmatrix} 2 & 1 \\ 1 & -1 \end{pmatrix} = (3, -3, -3)$$

$$\|\vec{u} \times \vec{v}\| = \sqrt{(3)^2 + (-3)^2 + (-3)^2} = \sqrt{9 + 9 + 9} = 3\sqrt{3}$$

\*\*\*

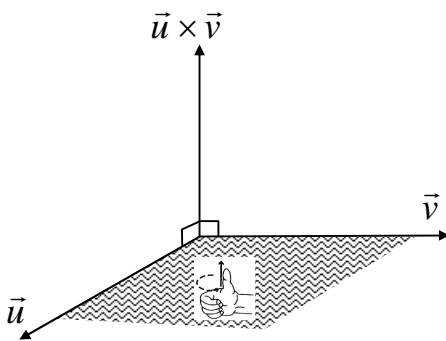
**تمرین ۱۰:** نشان دهید که دو بردار  $\vec{u} = (1, 2, -3)$  و  $\vec{v} = (-3, -6, 9)$  موازی همدیگرند.

**حل:**

$$\vec{u} \times \vec{v} = \begin{pmatrix} \begin{vmatrix} 2 & -3 \\ -6 & 9 \end{vmatrix} & \begin{vmatrix} -3 & 1 \\ 9 & -3 \end{vmatrix} & \begin{vmatrix} 1 & 2 \\ -3 & -6 \end{vmatrix} \end{pmatrix} = (18 - 18, 9 - 9, -6 + 6) = (0, 0, 0) = \vec{0}$$

$$\rightarrow \vec{u} \parallel \vec{v}$$

\*\*\*



**نتیجه:** اگر  $\vec{u}$  و  $\vec{v}$  دو بردار ناموازی و غیر صفر باشند، در

این صورت  $\vec{u} \times \vec{v}$  نیز غیر صفر بوده و هم بر  $\vec{u}$  و هم بر  $\vec{v}$  عمود است و لذا بر صفحه‌ی شامل  $\vec{u}$  و  $\vec{v}$  عمود خواهد بود.

به کمک دست راست اگر انگشتان دست از طرف  $\vec{u}$  به

طرف  $\vec{v}$  باشند، انگشت شست در جهت  $\vec{u} \times \vec{v}$  قرار می‌گیرد. (قاعده‌ی دست راست)

\*\*\*

**تمرین ۱۱:** برداری پیدا کنید که بر هر دو بردار  $\vec{u} = (4, -1, 3)$  و  $\vec{v} = (2, 3, -1)$  عمود باشد.

**حل:** کافی است که یکی از دو بردار  $\vec{u} \times \vec{v}$  یا  $\vec{v} \times \vec{u}$  را تعیین کنیم.

$$\vec{u} \times \vec{v} = \begin{pmatrix} \begin{vmatrix} -1 & 3 \\ 3 & -1 \end{vmatrix} & \begin{vmatrix} 3 & 4 \\ -1 & 2 \end{vmatrix} & \begin{vmatrix} 4 & -1 \\ 2 & 3 \end{vmatrix} \end{pmatrix} = (-8, 10, 14)$$

$$\vec{v} \times \vec{u} = \begin{pmatrix} \begin{vmatrix} 3 & -1 \\ -1 & 3 \end{vmatrix} & \begin{vmatrix} -1 & 2 \\ 3 & 4 \end{vmatrix} & \begin{vmatrix} 2 & 3 \\ 4 & -1 \end{vmatrix} \end{pmatrix} = (8, -10, -14)$$

\*\*\*

**تمرین ۱۲:** برداری به طول واحد بیابید که بر بردارهای  $\vec{u} = (1, 2, 2)$  و  $\vec{v} = (-1, 2, -2)$  عمود باشد.

حل :

$$\vec{u} \times \vec{v} = \left( \begin{vmatrix} 2 & 2 \\ 2 & -2 \end{vmatrix}, \begin{vmatrix} 2 & 1 \\ -2 & -1 \end{vmatrix}, \begin{vmatrix} 1 & 2 \\ -1 & 2 \end{vmatrix} \right) = (-8, 0, 4) \rightarrow \begin{cases} (\vec{u} \times \vec{v}) \perp \vec{u} \\ (\vec{u} \times \vec{v}) \perp \vec{v} \end{cases}$$

$$\|\vec{u} \times \vec{v}\| = \sqrt{(-8)^2 + (0)^2 + (4)^2} = \sqrt{64 + 0 + 16} = \sqrt{80} = 4\sqrt{5}$$

$$e(\vec{u} \times \vec{v}) = \frac{1}{\|\vec{u} \times \vec{v}\|} (\vec{u} \times \vec{v}) = \frac{1}{4\sqrt{5}} (-8, 0, 4) = \left( \frac{-2}{\sqrt{5}}, 0, \frac{1}{\sqrt{5}} \right)$$

\*\*\*

### اندازه‌ی بردار حاصل ضرب خارجی

برای هر دو بردار غیر صفر  $\vec{u}$  و  $\vec{v}$  که زاویه‌ی بین آنها  $\theta$  (کوچکترین زاویه‌ی بین آنها) است، داریم:

$$\|\vec{u} \times \vec{v}\| = \|\vec{u}\| \|\vec{v}\| \sin\theta$$

**تمرین ۱۳:** اگر  $\|\vec{u}\| = 10$  و  $\|\vec{v}\| = 6$  و زاویه‌ی بین دو بردار  $30^\circ$  درجه باشد، اندازه‌ی بردار ضرب خارجی

این دو بردار را محاسبه کنید.

حل :

$$\|\vec{u} \times \vec{v}\| = \|\vec{u}\| \|\vec{v}\| \sin\theta = 10 \times 6 \times \sin 30^\circ = 10 \times 6 \times \frac{1}{2} = 30$$

\*\*\*

\*\*\*

## رابطه‌ی بین ضرب خارجی و ضرب داخلی دو بردار

برای هر دو بردار غیر صفر  $\vec{u}$  و  $\vec{v}$  . ثابت کنید که

$$\|\vec{u} \times \vec{v}\|^2 = \|\vec{u}\|^2 \|\vec{v}\|^2 - (\vec{u} \cdot \vec{v})^2$$

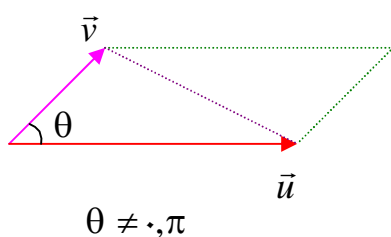
**تمرین ۱:** اگر  $\|\vec{u}\| = 10$  و  $\|\vec{v}\| = 2$  و  $\vec{u} \cdot \vec{v} = 12$  اندازه‌ی بردار  $\vec{u} \times \vec{v}$  را بیابید.

$$\|\vec{u} \times \vec{v}\|^2 = \|\vec{u}\|^2 \|\vec{v}\|^2 - (\vec{u} \cdot \vec{v})^2 = 10^2 \times 2^2 - (12)^2 = 400 - 144 = 256$$

$$\rightarrow \|\vec{u} \times \vec{v}\| = \sqrt{256} = 16$$

\*\*\*

## مساحت متوازی الاضلاع



برای هر دو بردار غیر صفر و غیر موازی  $\vec{u}$  و  $\vec{v}$  که زاویه‌ی بین آنها  $\theta$  (کوچکترین زاویه‌ی بین آنها) است. می‌توان یک متوازی الاضلاع به شکل زیر ساخت. در این صورت مساحت متوازی الاضلاع از رابطه‌ی های زیر بدست می‌آید.

$$S = \|\vec{u} \times \vec{v}\| \quad \text{مساحت متوازی الاضلاع}$$

**نتیجه:** مساحت مثلثی که با دو بردار غیر موازی و غیر صفر  $\vec{u}$  و  $\vec{v}$  تولید می شود، برابر است با:

$$S = \frac{1}{2} \|\vec{u} \times \vec{v}\|$$

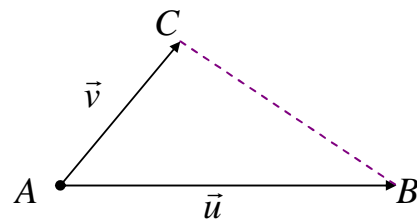
\*\*\*

**تمرین ۲:** مساحت مثلثی را حساب کنید که  $A(1, 2, 0)$  و  $B(3, 0, -3)$  و  $C(5, 2, 6)$  سه رأس آن باشند.

**حل:** تعریف می کنیم:

$$\vec{u} = \vec{AB} = (3 - 1, 0 - 2, -3 - 0) = (2, -2, -3)$$

$$\vec{v} = \vec{AC} = (5 - 1, 2 - 2, 6 - 0) = (4, 0, 6)$$



در این صورت:

$$\vec{u} \times \vec{v} = \begin{pmatrix} -2 & -3 & -3 & 2 \\ 2 & -2 & -3 & 0 \\ 4 & 0 & 6 & 0 \end{pmatrix} = (-12, -24, 8)$$

$$\|\vec{u} \times \vec{v}\| = \sqrt{(-12)^2 + (-24)^2 + (8)^2} = \sqrt{144 + 576 + 64} = \sqrt{784} = 28$$

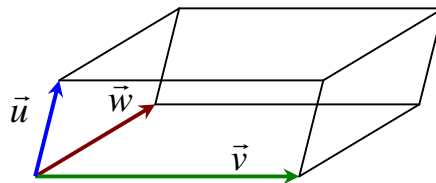
$$S = \frac{1}{2} \|\vec{u} \times \vec{v}\| = \frac{1}{2} \times 28 = 14$$

\*\*\*

## حجم متوازی السطوح

اگر  $\vec{u}$  و  $\vec{v}$  و  $\vec{w}$  سه بردار غیر واقع بر یک صفحه باشند. در این صورت با این سه بردار یک متوازی السطوح

تشکیل می شود. حجم متوازی السطوح را می توان به شکل زیر محاسبه نمود.



$$V = |\vec{u} \cdot (\vec{v} \times \vec{w})|$$

\*\*\*



**تمرین ۳:** اندازه‌ی ارتفاع و حجم متوازی السطوحی را حساب کنید که توسط بردار های  $\vec{u} = (1, 1, 0)$

و  $\vec{v} = (0, 1, 1)$  و  $\vec{w} = (1, 0, 1)$  تولید می شود.

حل :

$$\vec{v} \times \vec{w} = \begin{vmatrix} \hat{i} & \hat{j} & \hat{k} \\ 0 & 1 & 1 \\ 1 & 0 & 1 \end{vmatrix} = (1, 1, -1)$$

$$\vec{u} \cdot (\vec{v} \times \vec{w}) = (1)(1) + (1)(1) + (0)(-1) = 2$$

$$\|\vec{v} \times \vec{w}\| = \sqrt{(1)^2 + (1)^2 + (-1)^2} = \sqrt{1+1+1} = \sqrt{3}$$

$$\text{ارتفاع متوازی السطوح } h = \vec{u}' = \frac{|\vec{u} \cdot (\vec{v} \times \vec{w})|}{\|\vec{v} \times \vec{w}\|} = \frac{2}{\sqrt{3}}$$

$$\text{حجم متوازی السطوح } V = |\vec{u} \cdot (\vec{v} \times \vec{w})| = 2$$

\*\*\*

**نتیجه:** بردار های  $\vec{u}$  و  $\vec{v}$  و  $\vec{w}$  روی یک صفحه واقعدند اگر و فقط اگر حجم متوازی السطوحی که با این سه

بردار ساخته می شود برابر صفر باشد. یعنی  $\vec{u} \cdot (\vec{v} \times \vec{w}) = 0$

\*\*\*

**تمرین ۴:** نشان دهید که سه بردار  $\vec{u} = (1, 1, 0)$  و  $\vec{v} = (1, 1, 1)$  و  $\vec{w} = (0, 0, 1)$  روی یک صفحه واقعدند.

حل: کافی است نشان دهیم که  $\vec{u} \cdot (\vec{v} \times \vec{w}) = 0$

$$\vec{v} \times \vec{w} = \begin{vmatrix} \hat{i} & \hat{j} & \hat{k} \\ 1 & 1 & 1 \\ 0 & 0 & 1 \end{vmatrix} = (1, -1, 0)$$

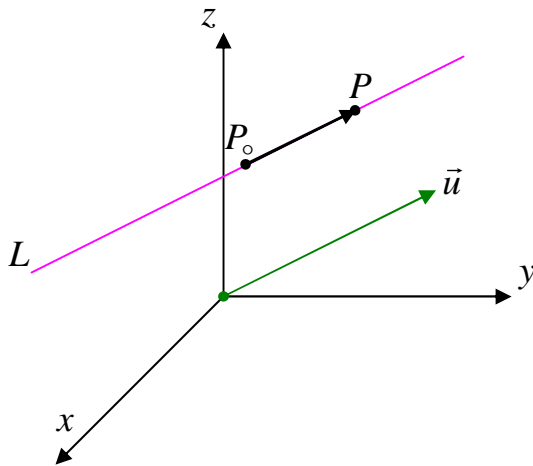
$$\vec{u} \cdot (\vec{v} \times \vec{w}) = (1)(1) + (1)(-1) + (0)(0) = 0$$

\*\*\*

\*\*\*

## معادلات خط و صفحه در فضا

### الف) خط در فضا



اگر  $P(x_0, y_0, z_0)$  نقطه‌ی معلومی از خط  $L$  و بردار ناصفر  $\vec{u} = (p, q, r)$  که موازی با  $L$  باشد را به طور منحصر بفرد داشته باشیم. در این صورت معادله‌ی خط  $L$  را می‌توان به شکل‌های زیر نوشت:

### معادلات پارامتری خط

$$\begin{cases} x = x_0 + pt \\ y = y_0 + qt \\ z = z_0 + rt \end{cases}$$

### معادلات متعارف خط (معادلات دکارتی)

$$\frac{x - x_0}{p} = \frac{y - y_0}{q} = \frac{z - z_0}{r}$$

**توجه:** بردار  $\vec{u}$  که موازی خط  $L$  است را بردار هادی خط  $L$  می‌نامند که همواره امتداد خط  $L$  را نشان می‌دهد.

دهد.

**تمرین ۱:** خطی از نقطه‌ی  $P_0(2, -4, 1)$  می‌گذرد و موازی با بردار  $\vec{u} = (3, 2, -1)$  است.

الف: معادلات پارامتری این خط را بنویسید. ب: معادلات متعارف این خط را بنویسید.

**حل:**

الف: معادلات پارامتری خط

$$\begin{cases} x = x_0 + pt \\ y = y_0 + qt \\ z = z_0 + rt \end{cases} \rightarrow \begin{cases} x = 2 + 3t \\ y = -4 + 2t \\ z = 1 - t \end{cases}$$

ب: معادلات متعارف خط

$$\frac{x - x_0}{p} = \frac{y - y_0}{q} = \frac{z - z_0}{r} \rightarrow \frac{x - 2}{3} = \frac{y + 4}{2} = \frac{z - 1}{-1}$$

**تمرین ۲:** معادلات متعارف خطی را بنویسید که از دو نقطه‌ی  $P_1(4, -6, 5)$  و  $P_2(2, -3, 0)$  می‌گذرد.

**حل:** کافی است که امتداد خط را به صورت زیر تعریف کنیم:

$$\vec{u} = \overrightarrow{P_1P_2} = (2 - 4, -3 + 6, 0 - 5) = (-2, 3, -5)$$

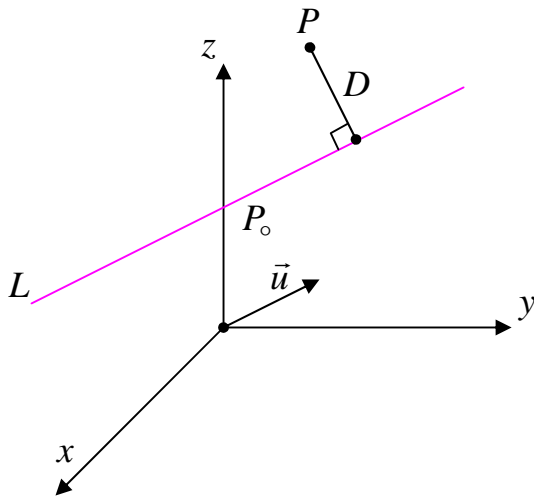
حال یکی از نقاط داده شده، مثلاً  $P_2(2, -3, 0)$  قرار دهیم:  $(x_0 = 2, y_0 = -3, z_0 = 0)$

و لذا معادله‌ی خط به شکل زیر خواهد شد.

$$\frac{x - x_0}{p} = \frac{y - y_0}{q} = \frac{z - z_0}{r} \rightarrow \frac{x - 2}{-2} = \frac{y + 3}{3} = \frac{z}{-5}$$

\*\*\*

### فاصله‌ی یک نقطه از یک خط



فرض کنیم  $L$  خطی باشد که با بردار غیر صفر  $\vec{u}$  موازی است و  $P$  را نقطه‌ای در نظر بگیریم که خارج (یا روی)  $L$  قرار دارد. در این صورت فاصله‌ی نقطه‌ی  $P$  از خط  $L$  یعنی  $D$  برابر است با:

$$D = \frac{\|\vec{u} \times \vec{P_0P}\|}{\|\vec{u}\|}$$

که در آن  $P_0$  نقطه‌ی دلخواهی از صفحه است.

**تمرین ۳:** فاصله‌ی نقطه‌ی  $P(5, -6, 2)$  را از خط  $L$  به معادلات پارامتری زیر بدست آورید.

$$\begin{cases} x = 1 \\ y = -1 + 4t \\ z = 2 - 3t \end{cases}$$

**حل:** نقطه‌ی  $P_0(1, -1, 2)$  را روی خط  $L$  در نظر می‌گیریم. بردار  $\vec{u} = (0, 4, -3)$  موازی  $L$  است. پس:

$$\vec{P_0P} = (5 - 1, -6 + 1, 2 - 2) = (4, -5, 0)$$

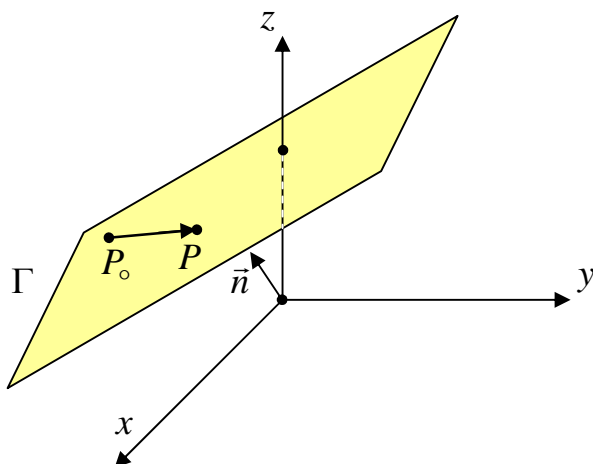
$$\vec{u} \times \vec{P_0P} = (-15, -12, -16)$$

$$\|\vec{u} \times \vec{P_0P}\| = \sqrt{(-15)^2 + (-12)^2 + (-16)^2} = \sqrt{625} = 25$$

$$\|\vec{u}\| = \sqrt{(0)^2 + (4)^2 + (-3)^2} = \sqrt{25} = 5$$

$$\therefore D = \frac{\|\vec{u} \times \vec{P_0P}\|}{\|\vec{u}\|} = \frac{25}{5} = 5$$

## ب) صفحه در فضا



هر صفحه در فضای  $R^3$  با یک نقطه روی آن و یک بردار که بر آن صفحه عمود است مشخص می شود.

اگر  $P(x_0, y_0, z_0)$  یک نقطه از صفحه و بردار غیر صفر  $\vec{n} = (a, b, c)$  عمود بر آن صفحه باشد و  $P(x, y, z)$  نقطه دلخواهی از آن فرض شود. آنگاه معادله صفحه به صورت زیر خواهد بود.

$$a(x - x_0) + b(y - y_0) + c(z - z_0) = 0$$

**توجه:** بردار  $n$  را بردار نرمال صفحه  $\Gamma$  می نامند. بردار نرمال صفحه همواره بر آن صفحه عمود است.

**تمرین ۴:** معادله صفحه ای را بنویسید که از نقطه  $A(2, 3, -1)$  گذشته و بر بردار

$$\vec{n} = 3\vec{i} - 2\vec{j} + 5\vec{k}$$
 عمود باشد.

**حل:**

$$\vec{n} = 3\vec{i} - 2\vec{j} + 5\vec{k} = (3, -2, 5)$$

$$a(x - x_0) + b(y - y_0) + c(z - z_0) = 0$$

$$\rightarrow 3(x - 2) - 2(y - 3) + 5(z + 1) = 0 \rightarrow 3x - 2y + 5z = -5$$

**تمرین ۵:** معادله صفحه ای را بنویسید که از نقطه  $A(-3, 2, 1)$  گذشته و بر خط

$$\frac{x}{3} = \frac{y-1}{2} = \frac{z+3}{-1}$$
 عمود باشد.

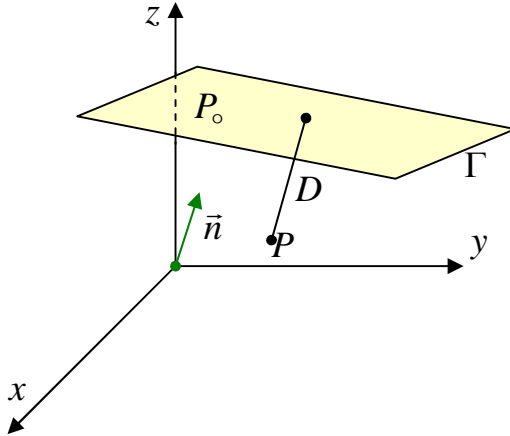
**حل:** چون صفحه و خط بر هم عمودند، پس بردار نرمال صفحه می تواند بردار هادی خط باشد.

$$\vec{n} = \vec{u} = (3, 2, -1)$$

$$a(x - x_0) + b(y - y_0) + c(z - z_0) = 0$$

$$3(x + 3) + 2(y - 2) - (z - 1) = 0 \rightarrow 3x + 2y - z = -6$$

## فاصله‌ی یک نقطه از یک صفحه



فرض کنیم  $\Gamma$  صفحه‌ای باشد که بر بردار غیر صفر  $\vec{n}$  عمود است و  $P$  را نقطه‌ای در نظر بگیریم که خارج (یا روی)  $\Gamma$  قرار دارد. در این صورت فاصله‌ی نقطه‌ی  $P$  از صفحه‌ی  $\Gamma$  یعنی  $D$  برابر است با:

$$D = \frac{|\vec{n} \cdot \vec{P_0P}|}{\|\vec{n}\|}$$

که در آن  $P_0$  نقطه‌ی دلخواهی از صفحه است.

**تمرین ۶:** فاصله‌ی نقطه‌ی  $P(0, 2, 1)$  را از صفحه‌ی  $\Gamma$  به معادله‌ی  $x + y + \sqrt{2}z + 2 - \sqrt{2} = 0$

بدست آورید.

**حل:**

$$P_0 \in \Gamma \rightarrow P_0(\sqrt{2}, -2, 0)$$

$$\vec{n} = (1, 1, \sqrt{2}) \qquad \vec{P_0P} = (-\sqrt{2}, 4, 1)$$

$$\vec{n} \cdot \vec{P_0P} = 1(-\sqrt{2}) + 4(1) + 1(\sqrt{2}) = 4$$

$$\|\vec{n}\| = \sqrt{1+1+2} = 2$$

$$D = \frac{|\vec{n} \cdot \vec{P_0P}|}{\|\vec{n}\|} = \frac{4}{2} = 2$$

**نتیجه:** فاصله‌ی نقطه‌ی  $P(x_1, y_1, z_1)$  از صفحه‌ی  $\Gamma$  به معادله‌ی  $ax + by + cz + d = 0$  به صورت زیر

است.

$$D = \frac{|ax_1 + by_1 + cz_1 + d|}{\sqrt{a^2 + b^2 + c^2}}$$

**تمرین ۷:** فاصله‌ی نقطه‌ی  $P(0, 2, 1)$  را از صفحه‌ی  $\Gamma$  به معادله‌ی  $x + y + \sqrt{2}z + 2 - \sqrt{2} = 0$

بدست آورید.

**حل:**

$$D = \frac{|ax_1 + by_1 + cz_1 + d|}{\sqrt{a^2 + b^2 + c^2}}$$
$$= \frac{|(1)(0) + (1)(2) + (\sqrt{2})(1) + (2 - \sqrt{2})|}{\sqrt{1^2 + 1^2 + (\sqrt{2})^2}} = \frac{|2 + \sqrt{2} + 2 - \sqrt{2}|}{\sqrt{4}} = \frac{4}{2} = 2$$

\*\*\*

**پایان**

## فصل ۲: توابع چند متغیره

### توابع چند متغیره

تاکنون با توابع حقیقی یک متغیره آشنا شده ایم. اگرچه بسیاری از پدیده ها را توسط این توابع توصیف می شوند، ولی اغلب کمیت های فیزیکی و اقتصادی در واقع به بیش از یک متغیره وابسته هستند. به عنوان مثال حجم مکعب مستطیل به طول و عرض و ارتفاع آن بستگی دارد. هزینه کل یک واحد صنعتی بستگی به حقوق کارکنان، مواد اولیه، تجهیزات و ... است. هر تابع که با چند متغیره وابسته است را تابع چند متغیره می نامند. در این فصل با این توابع و ویژگی های آنها آشنا شده و در ادامه به تعمیم مفهوم مشتق و کاربرد های آن می پردازیم.

تعریف: اگر  $R$  مجموعه ای اعداد حقیقی باشد. هر تابع که دامنه ی آن  $R^n$  و برد آن  $R$  را یک تابع  $n$  متغیره می نامند. به عبارتی ساده تر تابع  $n$  متغیره ی، به تعداد  $n$  عدد مرتب حقیقی می گیرد و یک یک عدد حقیقی می دهد. برای مثال:

$$y = f(x) \text{ تابع یک متغیره}$$

$$y = f(x_1, x_2) \text{ تابع دو متغیره}$$

$$y = f(x_1, x_2, x_3) \text{ تابع سه متغیره}$$

مثال: تابع  $f(x, y) = 3x^2 - 4y$  یک تابع دو متغیره است. مقدار  $f(1, 2)$  را بدست آورید.

$$f(1, 2) = 3(1)^2 - 4(2) = 3 - 8 = -5$$

تمرین: تابع سه متغیره ی  $f(x, y, z) = \frac{x}{y} - 3z + 1$  را در نظر بگیرید. مقدار  $f(10, 5, 1)$  را

محاسبه کنید.

$$f(10, 5, 1) = \frac{10}{5} - 3(1) + 1 = 2 - 3 + 1 = 0$$

همانطور که انتظار می رود، دامنه ی یک تابع چند متغیره زیر مجموعه ای از  $R^n$  می باشد، به شرط اینکه به ازای تمام اعضای آن تابع داده شده تعریف شده باشد.

مثال: دامنه ی تابع  $f(x, y) = \frac{x+3}{y-1}$  مجموعه ی  $D_f = \{(x, y) \in R^2 \mid y \neq 1\}$  می باشد. زیرا

مخرج کسر نباید صفر شود.



تذکر : در این فصل فقط به بررسی توابع دو متغیره می پردازیم و در مواردی محدود به توابع سه متغیره اشاره می کنیم.

تمرین : تابع  $f(x, y) = \frac{1}{x-y}$  را در نظر بگیرید.

الف : مقدار  $f(6, 4)$  را محاسبه کنید.

ب : دامنه ی این تابع را تعیین کنید.

حل :

$$f(6, 4) = \frac{1}{6-4} = \frac{1}{2}$$

$$D_f = \{(x, y) \in R^2 \mid x \neq y\}$$

تمرین : تابع  $f(x, y) = \sqrt{x} + 3y$  را در نظر بگیرید.

الف ( دامنه ی تابع زیر را بدست آورید.

ب) مقدار  $f(4, 1)$  را حساب کنید.

حل : زیر رادیکال نباید منفی باشد. پس :

$$D_f = \{(x, y) \in R^2 \mid x \geq 0\}$$

$$f(4, 1) = \sqrt{4} + 3(1) = 2 + 3 = 5$$

تمرین برای حل :

تمرین : تابع  $f(x, y) = \sqrt{x^2 + y^2 - 9}$  را در نظر بگیرید.

الف : مقدار  $f(5, -1)$  را محاسبه کنید.

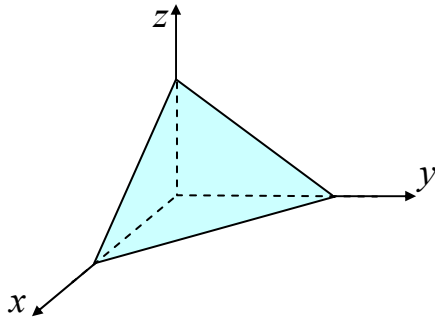
ب : دامنه ی این تابع را تعیین کنید.

\*\*\*

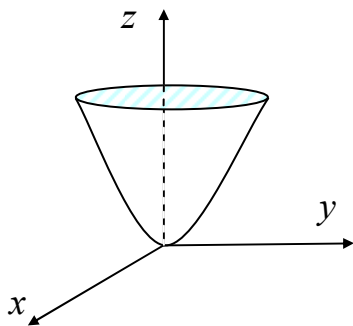
### نمودار توابع دو متغیره

نمودار توابع دو متغیره فقط در فضای سه بعدی قابل ترسیم است. برای مثال تابع  $z = f(x, y)$  دو مقدار برای  $x$  و  $y$  می گیرد و مقدار برای  $z$  می دهد. به همین دلیل نمودار های اینگونه توابع در فضای سه بعدی نمایش داده می شوند. نمودار هر تابع دو متغیره را رویه ( و به در حالتی خاص سطح ) می نامند. به نمونه های زیر توجه کنید.

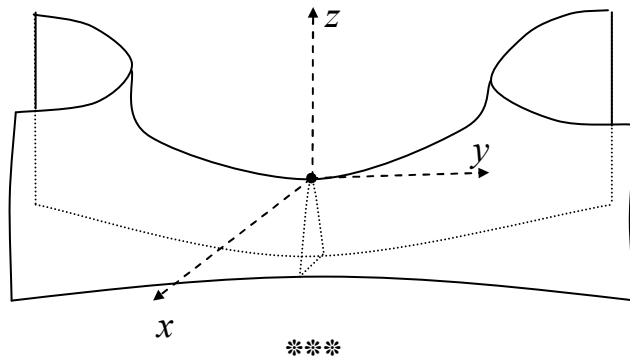
مثال ۱: نمودار تابع  $z = -x - y$  یک سطح می باشد.



مثال ۲: نمودار تابع  $z = x^2 + y^2$  یک سهمی گون می باشد.



مثال ۳: نمودار تابع  $z = x^2 - y^2$  یک هذلولی گون یا رویه ی زین اسبی است.



### حد در توابع دو متغیره

اگر  $f(x, y)$  یک تابع دو متغیره باشد. حد این تابع در نقطه ی  $(a, b)$  عددی مانند  $L$  است، هرگاه وقتی که  $(x, y)$  به سمت  $(a, b)$  میل کند و مقدار تابع به  $L$  نزدیک شود. در این صورت می نویسند.

$$\lim_{(x, y) \rightarrow (a, b)} f(x, y) = L$$

مثال: حد تابع  $f(x, y) = x^2 + 5xy + 2y^2$  در نقطه ی  $(1, -2)$  را بدست آورید.

حل:

$$\lim_{(x,y) \rightarrow (1,-2)} f(x,y) = \lim_{(x,y) \rightarrow (1,-2)} (x^2 + 5xy + 2y^2) = (1)^2 + 5(1)(-2) + 2(-2)^2$$

$$= 1 - 10 + 8 = -1$$

تمرین برای حل : حد های زیر را حساب کنید.

$$1) \lim_{(x,y) \rightarrow (1,2)} \frac{4x - y}{x + 3y}$$

$$2) \lim_{(x,y) \rightarrow (0,0)} \frac{x + 3y - 1}{x + y + 5}$$

$$3) \lim_{(x,y) \rightarrow (3,-4)} \sqrt{x^2 + y^2}$$

تذکر : اگر در محاسبه ی حد ، پس از جایگذاری مقادیر به حالت  $\frac{0}{0}$  برسیم، در اصطلاح گویند، حد

مبهم است و برای رفع ابهام لازم است قبل از جایگذاری صورت و مخرج کسر را تجزیه و ساده کنید.

مثال : حد زیر را حساب کنید.

$$\lim_{(x,y) \rightarrow (3,3)} \frac{x^2 - y^2}{x - y}$$

حل :

$$\lim_{(x,y) \rightarrow (3,3)} \frac{x^2 - y^2}{x - y} = \frac{(3)^2 - (3)^2}{3 - 3} = \frac{0}{0} \quad \text{مبهم}$$

$$\lim_{(x,y) \rightarrow (3,3)} \frac{x^2 - y^2}{x - y} = \lim_{(x,y) \rightarrow (3,3)} \frac{(x - y)(x + y)}{x - y}$$

$$= \lim_{(x,y) \rightarrow (3,3)} (x + y) = 3 + 3 = 6$$

تمرین برای حل : حد های زیر را حساب کنید.

$$1) \lim_{(x,y) \rightarrow (-2,1)} \frac{x^2 + 5xy + 6y^2}{x + 2y}$$

$$2) \lim_{(x,y) \rightarrow (1,1)} \frac{x^3 - y^3}{x - y}$$

$$3) \lim_{(x,y) \rightarrow (1,1)} \frac{x^3 - y^3}{x^2 - y^2}$$

### پیوستگی در توابع دو متغیره

اگر دو متغیره ی  $f(x, y)$  را در نقطه ی  $(a, b)$  پیوسته گویند، هرگاه :

الف : مقدار  $f(a, b)$  وجود داشته باشد.

ب :  $\lim_{(x, y) \rightarrow (a, b)} f(x, y)$  وجود داشته باشد.

ج :  $\lim_{(x, y) \rightarrow (a, b)} f(x, y) = f(a, b)$  باشد.

در صورتی که حداقل یکی از شرایط فوق برقرار نباشد، گویند تابع در نقطه ی پیوسته  $(a, b)$  نیست.

مثال : پیوستگی تابع زیر را در نقطه ی  $(0, 1)$  بررسی کنید.

$$f(x, y) = \begin{cases} x + 2y + 1 & (x, y) \neq (0, 1) \\ 3 & (x, y) = (0, 1) \end{cases}$$

حل :

$$f(0, 1) = 3$$

$$\lim_{(x, y) \rightarrow (0, 1)} f(x, y) = \lim_{(x, y) \rightarrow (0, 1)} (x + 2y + 1) = 0 + 2(1) + 1 = 3$$

لذا تابع داده شده در نقطه ی  $(0, 1)$  پیوسته است.

مثال : پیوستگی تابع زیر را در نقطه ی  $(1, 2)$  بررسی کنید.

$$f(x, y) = \begin{cases} x^2 + y^2 & (x, y) \neq (1, 2) \\ 2xy & (x, y) = (1, 2) \end{cases}$$

حل :

$$f(1, 2) = 2(1)(2) = 4$$

$$\lim_{(x, y) \rightarrow (1, 2)} f(x, y) = \lim_{(x, y) \rightarrow (1, 2)} (x^2 + y^2) = (1)^2 + (2)^2 = 1 + 4 = 5$$

لذا تابع داده شده در نقطه ی  $(1, 2)$  پیوسته نیست.

تمرین برای حل :

۱ : پیوستگی توابع زیر را در نقطه ی  $(1, 2)$  را بررسی کنید.

$$f(x, y) = \begin{cases} \frac{\Delta xy}{x^2 + y^2} & (x, y) \neq (1, 2) \\ xy & (x, y) = (1, 2) \end{cases}$$

۲: پیوستگی توابع زیر را در نقطه ی  $(-۱,۱)$  را بررسی کنید.

$$f(x, y) = \begin{cases} ۱ + x^۲ + y^۲ & (x, y) \neq (-۱, ۱) \\ x^۲ - y^۲ & (x, y) = (-۱, ۱) \end{cases}$$

\*\*\*

### مشتقات جزئی توابع دو متغیره

در مورد توابع دو متغیره ، با در ثابت در نظر گرفتن یکی از متغیرها نسبت به متغیر دیگر مانند توابع یک متغیره می توان مشتق گیری نمود. به عبارتی دیگر در مشتق گیری از تابع  $z = f(x, y)$  نسبت به متغیر  $x$  ، متغیر  $y$  را ثابت در نظر می گیریم. همچنین در مشتق گیری از تابع  $z = f(x, y)$  نسبت به متغیر  $y$  ، متغیر  $x$  را ثابت در نظر می گیریم. به همین دلیل است که تابع بدست آمده را مشتق جزئی مرتبه ی اول ( مشتق نسبی مرتبه ی اول ) می نامند.

اگر  $z = f(x, y)$  یک تابع دو متغیره باشد. در این صورت مشتق این تابع نسبت به  $x$  را با نماد  $\frac{\partial f}{\partial x}$

یا  $f_x$  و مشتق این تابع نسبت به  $y$  را با نماد  $\frac{\partial f}{\partial y}$  یا  $f_y$  نمایش می دهند. لذا

$\frac{\partial f}{\partial x}$  = مشتق نسبت به  $x$  (  $y$  عدد فرض می شود ).

$\frac{\partial f}{\partial y}$  = مشتق نسبت به  $y$  (  $x$  عدد فرض می شود ).

مثال ۱: مشتقات جزئی مرتبه ی اول تابع  $f(x, y) = ۳x + ۲y + ۴xy + e^x - e^y + ۱$  را بدست آورید.

حل :

$$\frac{\partial f}{\partial x} = ۳ + ۴y + e^x$$

$$\frac{\partial f}{\partial y} = ۲ + ۴x - e^y$$

مثال ۲: مشتقات جزئی مرتبه ی اول تابع  $f(x, y) = ۵x^۲y^۳ - \sin x + \cos y$  را بدست آورید.

حل :

$$\frac{\partial f}{\partial x} = ۱۰xy^۳ - \cos x$$

$$\frac{\partial f}{\partial y} = 15x^2 y^2 - \sin y$$

تمرین : مشتقات جزئی تابع  $f(x, y) = x^3 - 4xy$  را در نقطه ی  $(1, 2)$  بدست آورید.

حل :

$$\frac{\partial f}{\partial x} = 3x^2 - 4y \rightarrow \frac{\partial f}{\partial x}(1, 2) = 3(1)^2 - 4(2) = 3 - 8 = -5$$

$$\frac{\partial f}{\partial y} = -4x \rightarrow \frac{\partial f}{\partial y}(1, 2) = -4(1) = -4$$

تذکر : مشتقات جزئی مرتبه ی اول تابع سه متغیره نیز به همین ترتیب تعریف می شود.

مثال : مشتقات جزئی مرتبه ی اول تابع زیر را بدست آورید.

$$f(x, y, z) = \sqrt{x} + \sqrt{y} + \sqrt{z} + 2x - 3y + z + 2$$

حل :

$$\frac{\partial f}{\partial x} = \frac{1}{2\sqrt{x}} + 2$$

$$\frac{\partial f}{\partial y} = \frac{1}{2\sqrt{y}} - 3$$

$$\frac{\partial f}{\partial z} = \frac{1}{2\sqrt{z}} + 1$$

تمرین برای حل :

۱ : مشتقات جزئی مرتبه ی اول هر یک از توابع زیر را بدست آورید.

۱)  $f(x, y) = xe^y + xy^2$

۲)  $f(x, y) = 3 + x^2 y^2 + e^{xy}$

۳)  $f(x, y) = \sin(x + y) + \cos(xy)$

۴)  $f(x, y, z) = x \sin y + y \sin x + L_n z$

۲ : مشتقات جزئی تابع  $f(x, y) = L_n(x^2 + 4y)$  را در نقطه ی  $(3, 2)$  بدست آورید.

۳ : مشتقات جزئی تابع  $f(x, y, z) = x^2 + y^2 + z^2 + xyz$  را در نقطه ی  $(1, 2, 3)$  بدست آورید.

یک مسئله ی کاربردی : اگر تابع هزینهی مشترک برای مقادیر  $x$  و  $y$  از دو کالا به صورت  $c(x, y) = 5 + 3x^2 - xy + 4y^2$  تعریف شده باشد. هزینه نهایی دو کالا را طوری بدست آورید که  $x = 4$  و  $y = 5$  باشد.

$$\frac{\partial c}{\partial x} = \text{هزینهی نهایی نسبت به کالای } x$$

$$\frac{\partial c}{\partial y} = \text{هزینهی نهایی نسبت به کالای } y$$

$$\frac{\partial c}{\partial y}(4, 5) = (6x - y) \Big|_{(4, 5)} = 6(4) - (5) = 24 - 5 = 19 \quad \text{هزینهی نهایی نسبت به کالای } x$$

$$\frac{\partial c}{\partial x}(4, 5) = (-x + 8y) \Big|_{(4, 5)} = -4 + 8 \quad \text{هزینهی نهایی نسبت به کالای } y$$

تمرین برای حل : اگر تابع هزینهی مشترک برای مقادیر  $x$  و  $y$  از دو کالا به صورت زیر تعریف شده باشد. هزینه نهایی دو کالا را طوری بدست آورید.

$$c(x, y) = 2xe^{3y}$$

یک مسئله ی کاربردی : اگر تابع تولید محصولی به صورت  $z(x, y) = 8xy - 2x^2 + 4y^2$  تعریف شده باشد. بهره وری نهایی  $x$  و  $y$  بدست آورید.

$$\frac{\partial z}{\partial x} = \text{تولید نهایی نسبت به } x \text{ (بهره وری نهایی نسبت به } x)$$

$$\frac{\partial z}{\partial y} = \text{تولید نهایی نسبت به } y \text{ (بهره وری نهایی نسبت به } y)$$

$$\frac{\partial z}{\partial x} = 8y - 4x$$

$$\frac{\partial z}{\partial y} = 8x - 8y$$

تمرین برای حل : بهره وری نهایی تابع  $z(x, y) = 3xy - x^2 - 3y^2$  را در نقطه ی  $(1, 2)$  را بدست آورید.

\*\*\*

### مشتقات جزئی مراتب بالاتر :

می توان عمل مشتق گیری را روی مشتقات جزئی مرتبه ی اول نیز انجام داد. در این صورت مشتقات جزئی مرتبه ی دوم بدست می آیند. با ادامه ی روند مشتقگیری می توان مشتقات جزئی مراتب بالاتر را نیز می توان به دست آورد. توجه داشته باشید که :

منظور از نماد  $\frac{\partial^2 f}{\partial x \partial y}$  یعنی  $\frac{\partial}{\partial x} \left( \frac{\partial f}{\partial y} \right)$  ابتدا از تابع  $f$  نسبت به  $y$  و سپس از تابع بدست آمده نسبت به  $x$  مشتق می گیریم.

منظور از نماد  $\frac{\partial^2 f}{\partial x^2}$  یعنی  $\frac{\partial}{\partial x} \left( \frac{\partial f}{\partial x} \right)$  ابتدا از تابع  $f$  نسبت به  $x$  و سپس از تابع بدست آمده مجدداً نسبت به  $x$  مشتق می گیریم.

منظور از نماد  $\frac{\partial^2 f}{\partial y^2}$  یعنی  $\frac{\partial}{\partial y} \left( \frac{\partial f}{\partial y} \right)$  ابتدا از تابع  $f$  نسبت به  $y$  و سپس از تابع بدست آمده مجدداً نسبت به  $y$  مشتق می گیریم.

مثال : اگر  $f(x, y) = 6x^2y - 4xy + 4y^2$  تساوی های زیر را کامل کنید.

الف)  $\frac{\partial f}{\partial x} = 12xy - 4y$

ب)  $\frac{\partial f}{\partial y} = 6x^2 - 4x + 8y$

ج)  $\frac{\partial^2 f}{\partial x \partial y} = 12x - 4$

د)  $\frac{\partial^2 f}{\partial y \partial x} = 12x - 4$

ه)  $\frac{\partial^2 f}{\partial x^2} = 12y$

و)  $\frac{\partial^2 f}{\partial y^2} = 8$



## تمرین برای حل

۱: اگر  $f(x, y) = x^2 - 2xy + 3y^2$  تساوی‌های زیر را کامل کنید.

الف)  $\frac{\partial f}{\partial x} =$

د)  $\frac{\partial^2 f}{\partial y \partial x} =$

ب)  $\frac{\partial f}{\partial y} =$

ه)  $\frac{\partial^2 f}{\partial x^2} =$

ج)  $\frac{\partial^2 f}{\partial x \partial y} =$

و)  $\frac{\partial^2 f}{\partial y^2} =$

۲: اگر  $f(x, y) = x^3 y^3 + \sin x$  مقدار  $\frac{\partial^2 f}{\partial y \partial x}$  را در نقطه ی  $(-1, 2)$  بدست آورید.

۳: اگر  $f(x, y) = x^3 y^3 z^2$  مقدار  $\frac{\partial^3 f}{\partial z \partial y \partial x}$  را بدست آورید.

\*\*\*

## دیفرانسیل کامل توابع دو متغیره

اگر  $z = f(x, y)$  یک تابع دو متغیره باشد. در این صورت دیفرانسیل کامل این تابع را به صورت زیر تعریف می شود.

$$df = \frac{\partial f}{\partial x} dx + \frac{\partial f}{\partial y} dy$$

مثال ۱: دیفرانسیل کامل تابع  $f(x, y) = xe^y + ye^x$  را بدست آورید.

حل :

$$df = \frac{\partial f}{\partial x} dx + \frac{\partial f}{\partial y} dy$$

$$df = (e^y + ye^x) dx + (xe^y + e^x) dy$$

مثال ۲: دیفرانسیل کامل تابع  $f(x, y) = 4x^2 - 3xy^2$  را در نقطه ی  $(2, -1)$  بدست آورید.

حل :

$$df = \frac{\partial f}{\partial x} dx + \frac{\partial f}{\partial y} dy$$

$$df = (8x - 3y^2)dx + (-6xy)dy$$

$$df|_{(2,-1)} = (8(2) - 3(-1)^2)dx + (-6(2)(-1))dy$$

$$= (16 - 3)dx + (12)dy = 13dx + 12dy$$

تذکر : به طور مشابه برای تابع سه متغیره ی  $w = f(x, y, z)$  می توان دیفرانسیل کامل را به صورت زیر تعریف نمود.

$$df = \frac{\partial f}{\partial x} dx + \frac{\partial f}{\partial y} dy + \frac{\partial f}{\partial z} dz$$

مثال : دیفرانسیل کامل تابع  $f(x, y, z) = xyz + x^2 + y^2 + z^2$  را بدست آورید.  
حل :

$$df = \frac{\partial f}{\partial x} dx + \frac{\partial f}{\partial y} dy + \frac{\partial f}{\partial z} dz$$

$$df = (yz + 2z)dx + (xz + 2y)dy + (xy + 2z)dz$$

تمرین برای حل : دیفرانسیل کامل هر یک از توابع زیر را بدست آورید.

$$۱) f(x, y) = 4x^2 + 3xy^2$$

$$۲) f(x, y) = xe^y + ye^x$$

$$۳) f(x, y, z) = e^{xyz}$$

\*\*\*

مشتق کامل توابع دو متغیره ( مشتق زنجیری )

در تابع دو متغیره ی  $z = f(x, y)$  ، اگر  $z$  تابعی مشتق پذیر از دو متغیر  $x$  و  $y$  بوده و توابع  $x = g(t)$  و  $y = h(t)$  نیز توابعی مشتق پذیر بر حسب متغیر  $t$  باشند. در این صورت  $z$  نیز تابعی مشتق پذیر از  $t$  بوده و مشتق زنجیره ای آن نسبت به  $t$  عبارت است از :

$$\frac{dz}{dt} = \frac{\partial z}{\partial x} \times \frac{dx}{dt} + \frac{\partial z}{\partial y} \times \frac{dy}{dt}$$

مثال : اگر  $z = x^2 + y^2$  و  $x = -t + e^t$  و  $y = t + e^t$  باشد. مشتق کامل  $\frac{dz}{dt}$  را بدست آورید.

حل :

$$\frac{dz}{dt} = \frac{\partial z}{\partial x} \times \frac{dx}{dt} + \frac{\partial z}{\partial y} \times \frac{dy}{dt}$$

$$\frac{dz}{dt} = (2x) \times (-1 + e^t) + (2y) \times (1 + e^t) = 2(-t + e^t)(-1 + e^t) + 2(t + e^t)(1 + e^t)$$

مثال : اگر  $z = x^2 + 2xy + y^2$  و  $x = \sin t$  و  $y = \cos t$  باشد. مشتق کامل  $\frac{dz}{dt}$  را بدست آورید.

حل :

$$\frac{dz}{dt} = \frac{\partial z}{\partial x} \times \frac{dx}{dt} + \frac{\partial z}{\partial y} \times \frac{dy}{dt}$$

$$\frac{dz}{dt} = (2x + 2y) \times (\cos t) + (2x + 2y) \times (-\sin t)$$

$$= 2(\sin t + \cos t)(\cos t) + 2(\sin t + \cos t)(-\sin t)$$

$$= 2\sin t \cos t + 2\cos^2 t - 2\sin^2 t - 2\sin t \cos t = 2\cos^2 t - 2\sin^2 t$$

تذکر : بطور مشابه مشتق کل (مشتق زنجیری) برای تابع سه متغیره  $w = f(x, y, z)$  وقتی که متغیرهای  $x$  و  $y$  و  $z$  برحسب  $t$  باشند، تعریف می شود.

$$\frac{dw}{dt} = \frac{\partial w}{\partial x} \times \frac{dx}{dt} + \frac{\partial w}{\partial y} \times \frac{dy}{dt} + \frac{\partial w}{\partial z} \times \frac{dz}{dt}$$

مثال : با توجه به توابع زیر  $\frac{dw}{dt}$  محاسبه کنید.

$$w = e^{xyz} \quad , \quad x = t^2 \quad , \quad y = t^3 \quad , \quad z = 2t$$

حل :

$$\frac{dw}{dt} = (yze^{xyz})(2t) + (xze^{xyz})(3t^2) + (xye^{xyz})(2)$$

$$\frac{dw}{dt} = (2yzt + 3xzt^2 + 2xy)e^{xyz}$$

$$= (2t^6 + 6t^5 + 2t^5)e^{2t^5} = (2t^6 + 8t^5)e^{2t^5} = 2t^5(t + 4)e^{2t^5}$$

تمرین برای حل : با توجه به توابع زیر  $\frac{dw}{dt}$  محاسبه کنید.

$$w = \sqrt{xyz} \quad , \quad x = 4t \quad , \quad y = 3t \quad , \quad z = 2t$$

\*\*\*

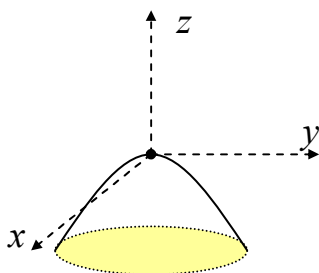
### ماکزیمم و مینیمم در توابع دو متغیره

تابع  $z = f(x, y)$  از دو متغیر مستقل  $x$  و  $y$  و نقطه  $(a, b)$  از دامنه  $f$  را در نظر بگیرید.  
در این صورت :

(۱)  $f(a, b)$  را ماکزیمم مطلق  $f$  گویند، هرگاه برای هر  $(x, y) \in D_f$  داشته باشیم :

$$f(a, b) \geq f(x, y)$$

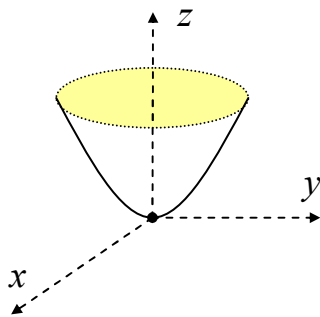
برای مثال نقطه  $(0, 0)$  یک نقطه  $f$  ماکزیمم مطلق تابع شکل زیر است.



(۲)  $f(a, b)$  را مینیمم مطلق  $f$  گویند، هرگاه برای هر  $(x, y) \in D_f$  داشته باشیم :

$$f(a, b) \leq f(x, y)$$

برای مثال نقطه  $(0, 0)$  یک نقطه  $f$  مینیمم مطلق تابع شکل زیر است.



(۳)  $f(a, b)$  را ماکزیمم نسبی  $f$  گویند، هرگاه دایره ای به مرکز  $(a, b)$  در دامنه  $f$  باشد که به

ازای برای هر  $(x, y)$  درون این دایره داشته باشیم :  $f(a, b) \geq f(x, y)$

(۴)  $f(a, b)$  را مینیمم نسبی  $f$  گویند، هرگاه دایره ای به مرکز  $(a, b)$  در دامنه  $f$  باشد که به

ازای برای هر  $(x, y)$  درون این دایره داشته باشیم :  $f(a, b) \leq f(x, y)$

\*\*\*

نکته ۱: اگر تابع  $z = f(x, y)$  در نقطه  $(a, b)$  دارای ماگزیمم یا مینیمم نسبی باشد، آنگاه:

$$\frac{\partial f}{\partial x}(a, b) = 0 \quad \text{و} \quad \frac{\partial f}{\partial y}(a, b) = 0$$

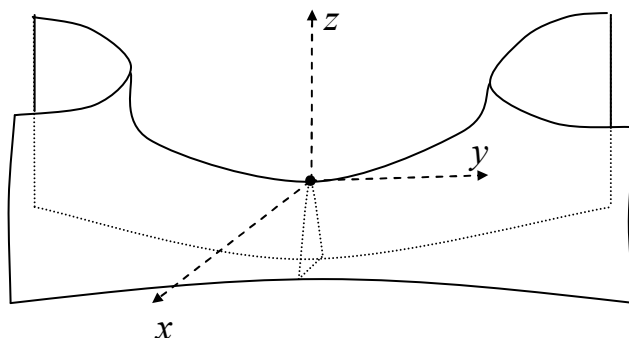
تعریف: نقطه  $(a, b)$  از دامنه  $z = f(x, y)$  را **نقطه ی بحرانی** تابع می نامند، هرگاه

$$\frac{\partial f}{\partial x}(a, b) = 0 \quad \text{و} \quad \frac{\partial f}{\partial y}(a, b) = 0$$

نکته ۲: اگر تابع  $z = f(x, y)$  داشته باشیم  $\frac{\partial f}{\partial x}(a, b) = 0$  و  $\frac{\partial f}{\partial y}(a, b) = 0$  ولی تابع

در نقطه  $(a, b)$  دارای ماگزیمم یا مینیمم نسبی نباشد، آنگاه در این نقطه دارای نقطه ی زینی (زین اسبی) است.

برای مثال تابع نمودار زیر، نقطه  $(0, 0)$  یک نقطه ی زین اسبی تابع است.



در واقع نقطه ی زین اسبی دارای شرایط ماگزیمم و مینیمم می باشد، ولی ماگزیمم و مینیمم نیست.

\*\*\*

تمرین: نقطه ی بحرانی تابع  $f(x, y) = x^2 + y^2 + 2x - 4y + 1$  در صورت وجود را بدست آورید.

حل: کافی است که دستگاه زیر را حل کنیم.

$$\begin{cases} \frac{\partial f}{\partial x} = 2x + 2 = 0 \\ \frac{\partial f}{\partial y} = 2y - 4 = 0 \end{cases} \rightarrow \begin{cases} 2x = -2 \\ 2y = 4 \end{cases} \rightarrow \begin{cases} x = -1 \\ y = 2 \end{cases}$$

پس تنها جواب این دستگاه نقطه  $(-1, 2)$  است. این نقطه، نقطه ی بحرانی تابع  $f$  است.

\*\*\*

## آزمون مشتق دوم برای تعیین نقاط ماگزیمم و مینیمم تابع دو متغیره

به کمک آزمون زیر می توان نقاط بحرانی تابع دو متغیره را تعیین نمود و نوع آنها را نیز مشخص کرد. برای این کار به ترتیب زیر عمل می کنیم.

۱: مشتقات جزئی مرتبه ی اول را تعیین کرده و برابر صفر قرار می دهیم.

$$\begin{cases} \frac{\partial f}{\partial x} = 0 \\ \frac{\partial f}{\partial y} = 0 \end{cases}$$

به این ترتیب مختصات نقطه ی بحران بدست می آید. اگر مختصات این نقطه  $(a, b)$  فرض شود.

۲: مقدار دلتا را محاسبه می کنیم.

$$\Delta = \left( \frac{\partial^2 f}{\partial x^2} \Big|_{(a,b)} \right) \left( \frac{\partial^2 f}{\partial y^2} \Big|_{(a,b)} \right) - \left( \frac{\partial^2 f}{\partial x \partial y} \Big|_{(a,b)} \right)^2$$

۳: با توجه به مقدار بدست آمده برای دلتا، نوع نقطه ی بحرانی را در تعیین می کنیم.

الف: اگر  $\Delta > 0$  و  $\frac{\partial^2 f}{\partial x^2} \Big|_{(a,b)} < 0$ ، آنگاه نقطه ی  $(a, b)$  ماگزیمم نسبی است.

ب: اگر  $\Delta > 0$  و  $\frac{\partial^2 f}{\partial x^2} \Big|_{(a,b)} > 0$ ، آنگاه نقطه ی  $(a, b)$  مینیمم نسبی است.

ج: اگر  $\Delta < 0$  باشد، آنگاه نقطه ی  $(a, b)$  زین اسبی است.

د: اگر  $\Delta = 0$  باشد، آنگاه در نوع نقطه ی بحرانی  $(a, b)$  را نمی توان مشخص کرد و روشهای دیگری

را باید بکاربرد.

توجه: در بند های الف و ب می توان بجای  $\frac{\partial^2 f}{\partial x^2} \Big|_{(a,b)}$  از  $\frac{\partial^2 f}{\partial y^2} \Big|_{(a,b)}$  نیز استفاده نمود.

مثال : تابع  $f(x, y) = x^2 + xy + y^2 - 3x + 2$  داده شده است.

الف) نقطه یا نقاط بحرانی تابع را در صورت وجود بدست آورید.

ب) نوع نقطه‌ی نقاط بحرانی بدست آمده را تعیین کنید.

حل :

الف)

$$\begin{cases} \frac{\partial f}{\partial x} = 2x + y - 3 = 0 \\ \frac{\partial f}{\partial y} = x + 2y = 0 \end{cases} \rightarrow \begin{cases} 2x + y = 3 \\ x + 2y = 0 \end{cases} \rightarrow x = 2, y = -1$$

پس نقطه‌ی  $A(2, -1)$  یک نقطه‌ی بحرانی تابع است.

ب)

$$\frac{\partial^2 f}{\partial x^2} = 2 \quad \text{و} \quad \frac{\partial^2 f}{\partial x \partial y} = 1 \quad \text{و} \quad \frac{\partial^2 f}{\partial y^2} = 2$$

$$\Delta = \begin{pmatrix} \frac{\partial^2 f}{\partial x^2} \\ \frac{\partial^2 f}{\partial x \partial y} \end{pmatrix} \begin{pmatrix} \frac{\partial^2 f}{\partial x \partial y} \\ \frac{\partial^2 f}{\partial y^2} \end{pmatrix} - \left( \frac{\partial^2 f}{\partial x \partial y} \right)^2 = (2)(2) - (1)^2 = 3$$

پس چون  $\Delta > 0$  و  $\frac{\partial^2 f}{\partial x^2} > 0$  پس نقطه‌ی  $A(2, -1)$  یک نقطه‌ی مینیمم است.

تمرین : تابع  $f(x, y) = 1 + x^2 - y^2$  را در نظر بگیرید.

الف) نقطه یا نقاط بحرانی تابع را در صورت وجود بدست آورید.

ب) نوع نقطه‌ی بحرانی بدست آمده را تعیین کنید.

$$\begin{cases} \frac{\partial f}{\partial x} = 2x = 0 \rightarrow x = 0 \\ \frac{\partial f}{\partial y} = -2y = 0 \rightarrow y = 0 \end{cases}$$

پس نقطه‌ی  $A(0, 0)$  یک نقطه‌ی بحرانی تابع است.

$$\frac{\partial^2 f}{\partial x^2} = \frac{\partial}{\partial x} \left( \frac{\partial f}{\partial x} \right) = 2 \quad \text{و} \quad \frac{\partial^2 f}{\partial x \partial y} = \frac{\partial}{\partial x} \left( \frac{\partial f}{\partial y} \right) = 0 \quad \text{و} \quad \frac{\partial^2 f}{\partial y^2} = \frac{\partial}{\partial y} \left( \frac{\partial f}{\partial y} \right) = -2$$

$$\Delta = \begin{pmatrix} \frac{\partial^2 f}{\partial x^2} \\ \frac{\partial^2 f}{\partial y^2} \end{pmatrix} \begin{pmatrix} \frac{\partial^2 f}{\partial x^2} \\ \frac{\partial^2 f}{\partial y^2} \end{pmatrix} - \left( \frac{\partial^2 f}{\partial x \partial y} \right)^2$$

$$\Delta = (2)(-2) - (0)^2 = -4$$

و چون  $\Delta = -4 < 0$  نقطه‌ی  $A(0,0)$  زین اسبی است.

تمرین برای حل: در هر مورد نقطه یا نقاط بحرانی تابع داده شده در صورت وجود را تعیین و سپس نوع آن را مشخص کنید.

۱)  $f(x, y) = x^2 + 2xy + 3y^2$

۲)  $f(x, y) = 2x^2 - xy + 5$

۳)  $f(x, y) = x^2 - 6xy + 9y^2 + 3x - 10$

۴)  $f(x, y) = 4x + 2y - x^2 - y^2$

۵)  $f(x, y) = 1 + e^{xy}$

۶)  $f(x, y) = x^3 - 3xy + y^3$

\*\*\*

یک مسئله‌ی کاربردی: اگر توابع تقاضای دو کالای  $x$  و  $y$  به صورت  $q = 40 - 5y$

و  $p = 36 - 3x$  و تابع هزینه‌ی مشترک آنها،  $c = x^2 + 2xy + 3y^2$  باشد. مطلوب است تعیین مقداری که سود انحصارگر را ماگزیم کرده و سپس سود ماگزیم را محاسبه کنید.

حل: می‌دانیم که سود ( $p$ ) حاصل تفاضل هزینه ( $c$ ) از درآمد ( $x$ ) می‌باشد. پس  $p = x - c$

اکنون مقادیر مفروضات مسئله را در رابطه‌ی سود جایگزین کرده و ساده می‌کنیم.

$$f = (px + qy) - c$$

$$f(x, y) = (36 - 3x)x + (40 - 5y)y - (x^2 + 2xy + 3y^2)$$

$$f(x, y) = 36x - 3x^2 + 40y - 5y^2 - x^2 - 2xy - 3y^2$$

$$f(x, y) = -4x^2 - 8y^2 - 2xy + 36x + 40y$$

حال نقاط بحرانی تابع و نوع آنها را تعیین می‌کنیم.



$$\begin{cases} \frac{\partial f}{\partial x} = -\lambda x - 2y + 36 = 0 \\ \frac{\partial f}{\partial y} = -16y - 2x + 40 = 0 \end{cases} \rightarrow \begin{cases} -\lambda x - 2y = -36 \\ -16y - 2x = -40 \end{cases} \rightarrow \begin{cases} 4x + y = 18 \\ x + 8y = 20 \end{cases} \rightarrow x = 4, y = 2$$

پس نقطه ی  $A(4,2)$  یک نقطه ی بحرانی تابع است.

$$\frac{\partial^2 f}{\partial x^2} = \frac{\partial}{\partial x} \left( \frac{\partial f}{\partial x} \right) = -\lambda, \quad \frac{\partial^2 f}{\partial x \partial y} = \frac{\partial}{\partial x} \left( \frac{\partial f}{\partial y} \right) = -2, \quad \frac{\partial^2 f}{\partial y^2} = \frac{\partial}{\partial y} \left( \frac{\partial f}{\partial y} \right) = -16$$

$$\Delta = \begin{pmatrix} \frac{\partial^2 f}{\partial x^2} \\ \frac{\partial^2 f}{\partial x \partial y} \end{pmatrix} \begin{pmatrix} \frac{\partial^2 f}{\partial x \partial y} \\ \frac{\partial^2 f}{\partial y^2} \end{pmatrix} - \left( \frac{\partial^2 f}{\partial x \partial y} \right)^2$$

$$\Delta = (-\lambda)(-16) - (-2)^2 = 12\lambda + 4 = 124$$

و چون  $\Delta > 0$  و  $\frac{\partial^2 f}{\partial x^2} < 0$  پس نقطه ی  $A(4,2)$  نقطه ی ماگزیمم است.

برای محاسبه ی سود ماگزیمم ، مقادیر  $x = 4$  و  $y = 2$  در تابع سود قرار می دهیم.

$$\text{تابع سود } f(x, y) = -4x^2 - 8y^2 - 2xy + 36x + 40y$$

$$f(4, 2) = -4(4)^2 - 8(2)^2 - 2(4)(2) + 36(4) + 40(2) = 112 \rightarrow \max(f) = 112$$

تمرین برای حل : برای توابع تقاضا و تابع هزینه ی مشترک زیر ، مقدار ماگزیمم سود و همچنین

سود ماگزیمم را بدست آورید.

$$\begin{cases} p = 10 - x \\ q = 20 - 2y \\ c = x^2 + 2xy + y^2 \end{cases}$$

\*\*\*